











Klima- und Vegetationszonen der Erde

1. Trage in die Abbildung die Klimazonen ① – ⑥ und die Vegetationszonen A – H ein:

①	②			③
A	B	C	D	E
				

© westermann 33796EX

④	⑤			⑥
F	G			H
	G1	G2	G3	
				

2. a) Nenne die Klima- und Vegetationszonen Asiens entlang des 120. Längengrades. Beginne im Norden (Atlas).

Klimazonen: _____

Vegetationszonen: _____

b) Ergänze die Klimazone, die entlang des 120. Längengrades nicht vertreten ist.

3. Definiere die Begriffe humides und arides Klima und nenne typische Beispielregionen.

humides Klima: _____

Beispielregion: _____

arides Klima: _____

Beispielregion: _____