

**THEMA: GEOMETRIE - VIERECKE**

**Klasse 5b**

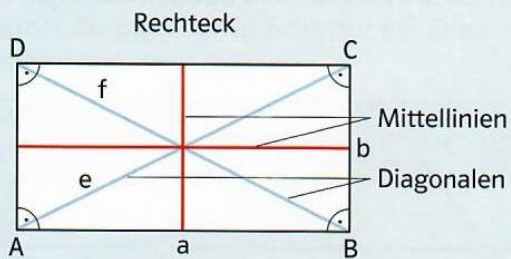
Übernehme die Übersicht „Grundwissen: Vierecke“ auf der Rückseite sauber in dein Heft.

Übungen    1. Arbeitsheft S.26 Nr. 1- 4

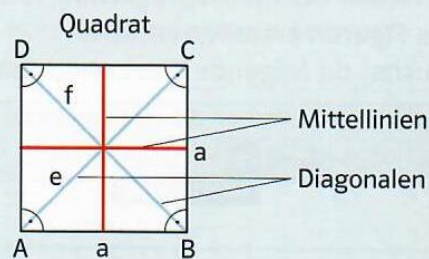
2. Lern-App ANTON: ☺ANTON

**Viel Erfolg !**

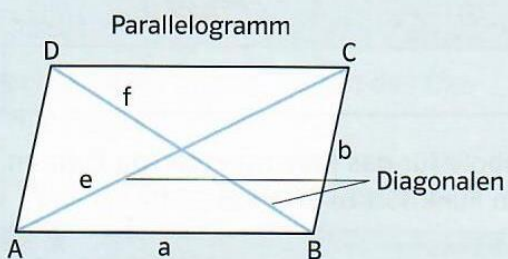
# Grundwissen: Vierecke



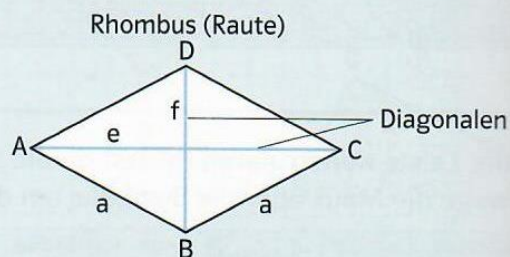
Ein Viereck, in dem die benachbarten Seiten senkrecht zueinander stehen, heißt **Rechteck**.



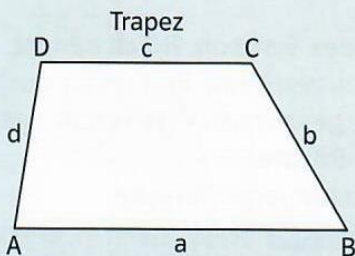
Ein Rechteck, in dem alle Seiten gleich lang sind, heißt **Quadrat**.



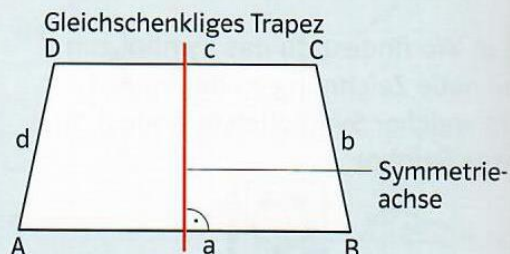
Ein Viereck, in dem die gegenüberliegenden Seiten parallel sind, heißt **Parallelogramm**.



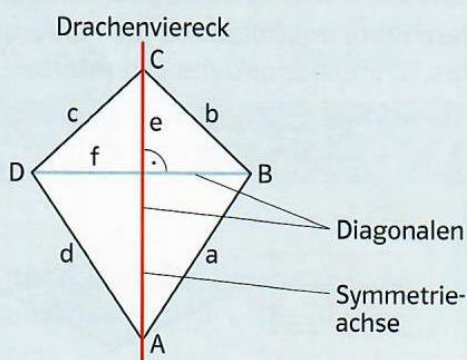
Ein Parallelogramm, in dem alle Seiten gleich lang sind, heißt **Rhombus (Raute)**.



Ein Viereck mit zwei parallelen Seiten heißt **Trapez**.



Ein Trapez mit einer Symmetrieachse, die senkrecht auf den beiden parallelen Seiten steht, heißt **gleichschenkliges Trapez**.



Ein Viereck, in dem eine Diagonale Symmetrieachse ist, heißt **Drachenviereck (Drachen)**.