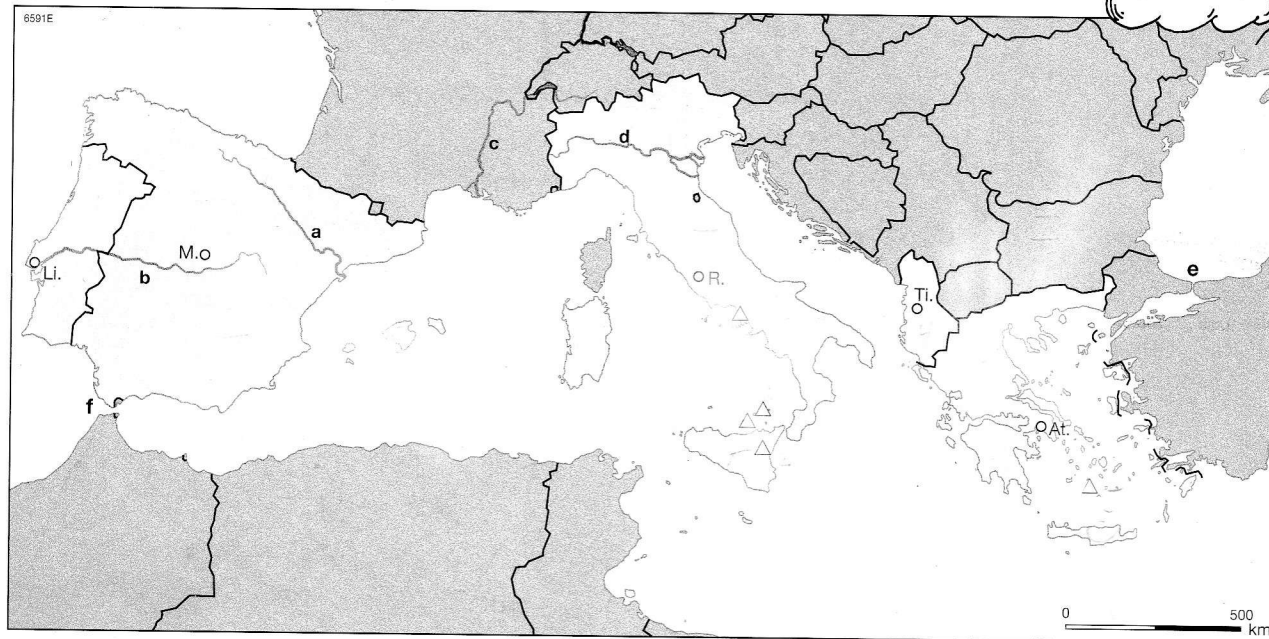




# Südeuropa: unruhiger Mittelmeerraum



Länder	Hauptstädte	Inseln/Halbinseln	Flüsse
1 Portugal	_____	A Sizilien	a _____
2 Spanien	_____	B Balearen	b _____
3 Italien	_____	C Kreta	c _____
4 Albanien	_____	D Iberische HI	d _____
5 Griechenland	_____	E Apenninen-HI	<b>Meerengen</b>
		F Balkan-HI	e _____
			f _____

1. Benenne die topographischen Objekte in der Karte bzw. in der Legende.
2. Skizziere einen Schichtvulkan und beschrifte deine Skizze. Denke dabei an Schlot, Magmakammer, Krater, Wechsel von Lava und Asche. Nutze das Lehrbuch.
3. Begründe, warum Menschen in direkter Nähe zu Vulkanen leben.
4. Bezeichne folgende Objekte in der Karte: Vesuv, Ätna, Stromboli, Liparische Inseln, Santorin.



Leben am Vulkan: \_\_\_\_\_

\_\_\_\_\_

\_\_\_\_\_